

تازه طعم ستاره و گریزاد

پایه پنجم


ورودی به پایه هشتم



خلاصه ای از تمام فصل های کتاب

پ) جرم آهن بکار رفته در این دو پنجره، روی هم چند کیلو و چند گرم است؟

۴) یک شرکت ساختمانی، اقدام به ساخت چندین واحد خانه (بصورت پلکانی) در یک زمین نموده است. مهندس این شرکت در سال اول، ساختمان را مانند شکل شماره ۱ به پایان رساند و ۳ واحد خانه را تکمیل کرد. این مهندس در سال دوم و سوم نیز ساختمان را مانند شکل ۲ و شکل شماره ۳ به پایان رساند؛



الف) حدس می زنید که این مهندس در سال پنجم، در کل چند واحد خانه را خواهد ساخت؟

ب) شکل مهندسی ساختمان این شرکت را در سال ششم بکشید.

پ) سال دهم، در طبقه همکف این ساختمان، چند واحد خانه ساخته شده است؟



زنگ مهارت

دستور پخت کلوچه زنجبیلی سبزواری

مواد لازم

آرد	روغن	پودر قند	ماست	تخم مرغ	بکینگ پودر	زرد چوبه	زنجبیل
یک کیلو	۳۰۰ گرم	۳۰۰ گرم	۳۰۰ گرم	۳ عدد	۱ ق غ	۱ ق غ	۱ ق غ

- ۱) روغن را با پودر قند مخلوط کنید و آرد را هم کم کم اضافه کنید و خوب هم بزنید.
- ۲) ماست، زنجبیل، زرد چوبه و بکینگ پودر هم به مخلوط اضافه شود.
- ۳) تخم مرغ ها در ظرفی جدا با همزن و با دور تند به خوبی هم زده شود و به مخلوط اضافه شود.
- ۴) خمیر به دست آمده، حسابی با دست ورز داده شود و یک ساعت به خمیر استراحت داده شود.
- ۵) پس از یک ساعت، خمیر روی سینی پخش شود و با قالب، فرم داده شود و با چنگال سوراخ سوراخ شود.
- ۶) کف سینی فر، یک کاغذ مومی گذاشته شود و کلوچه ها روی آن با فاصله مناسب گذاشته شود.
- ۷) فر به مدت یک ربع با دمای ۱۵۰ درجه گرم شود و بعد سینی فر، درون فر قرار داد شود.
- ۸) پس از حدود ۱۵ الی ۲۰ دقیقه کلوچه ها که طلایی شدند فر خاموش شود و حدود ۳۰ دقیقه اجازه داده شود تا سرد شوند.
- ۹) کلوچه های زنجبیلی سبزواری آماده ی نوش جان کردن است.



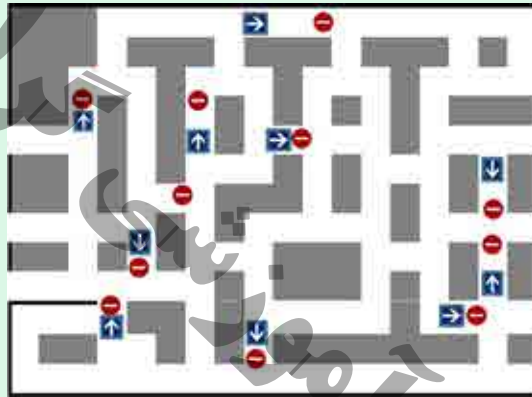
۱۴

اکنون به برخی مفاهیمی که در کتاب‌های کلاس پنجم خود یاد گرفته‌اید دقت کنید.
 آفریده‌های ساکت خداوند (فارسی) - خوب گوش دادن به حرف دیگران (اجتماعی) - گلی از قرآن (هدیه‌های آسمانی) - در غم‌ها باید از خدا کمک بخواهیم (اجتماعی) ص
 این مفاهیم به کدام یک از آیه‌های قرآنی (الف) تا (ت) مربوط است؟ آن‌ها را در کادر مربوط به هر آیه بنویسید.



زنگ مهارت

هر کدام از مفاهیم سمت راست را از کوتاه‌ترین مسیر، به مفاهیم مربوط در سمت چپ وصل نمایید. تابلوهای ورود ممنوع و عبور یکطرفه را هم رعایت کنید



همدلی

حریم شخصی

مشورت

گوشی همراه

کمک به زلزله‌زدگان

راز موفقیت در گروه



اجتماعی

۱۵ در هر کدام از موقعیت‌های زیر چه می‌کنید؟

(الف) وارد خانه می‌شوم و می‌بینم خواهرم غمگین است. آن‌گاه من

(ب) برای اینکه گروه درسی ما در بین گروه‌های کلاس موفق باشد من و اعضای گروه باید

(پ) اگر نماینده‌ی شورای شهرم شوم، تصمیم می‌گیرم که





یکی بود یکی نبود. غیر از خدا هیچ کی نبود. خدا بود که همه چی رو آفرید؛ آب، زمین، آسمان و... بعد هم خدا انسان ها رو آفرید. ۲ تا از این انسان ها، زهرا و زینب هستند که خواهرای دوقلوان. راستی! امروزم جشن تولدشونه. دوستای این خواهرای دوقلو هم به جشن امروز دعوت شدن. دوستا باهم یه تصمیم جالب گرفتن. چه تصمیمی؟ مریم و سمانه که تصمیم گرفتن هر کدومشون یک کیک وانیلی خوشمزه و هم شکل و اندازه ی هم درست کنند و به جشن بیرن. فاطمه هم تصمیم گرفته شیر کاکائوی جشن رو تهیه کنه. سیما هم میوه ی جشن رو بر عهده گرفت. حالا چرا این دوستا چنین تصمیمی گرفتند؟ فقط خودشون می دونن و خدا. جشن تولد ساعت ۵ عصر با حضور کسانی که اسماشون رو گفتیم شروع شد. مریم و سمانه که

دو تگه کیک هم که در سینی، باقی مونده بود، زهرا برداشت و توی یخچال گذاشت. و این گونه شد که جشن تولد به خوبی و خوشی، پایان یافت. حتما می پرسین وسط قصه چی شد؟ خب وسط قصه با شما و هنر نویسندگی شماست. دست به کار بشین و قصه رو کامل کنین. فقط یادتون باشه که قصه رو با همین زبان گفتاری بنویسین نه با زبان نوشتاری.





یک زمین‌شناس، هنگام بررسی لایه های رسوبی یک منطقه، آثاری مطابق شکل زیر را پیدا کرد.



۱۶ به نظر شما این عکس ممکن است مربوط به چه موجودی باشد؟

از کجا فهمیدید؟

۱۷ چه اطلاعات دیگری از این عکس، می‌توانید بفهمید؟

۱۸ حدس می‌زنید این جانور، چند سال پیش زندگی، می‌کرده است؟

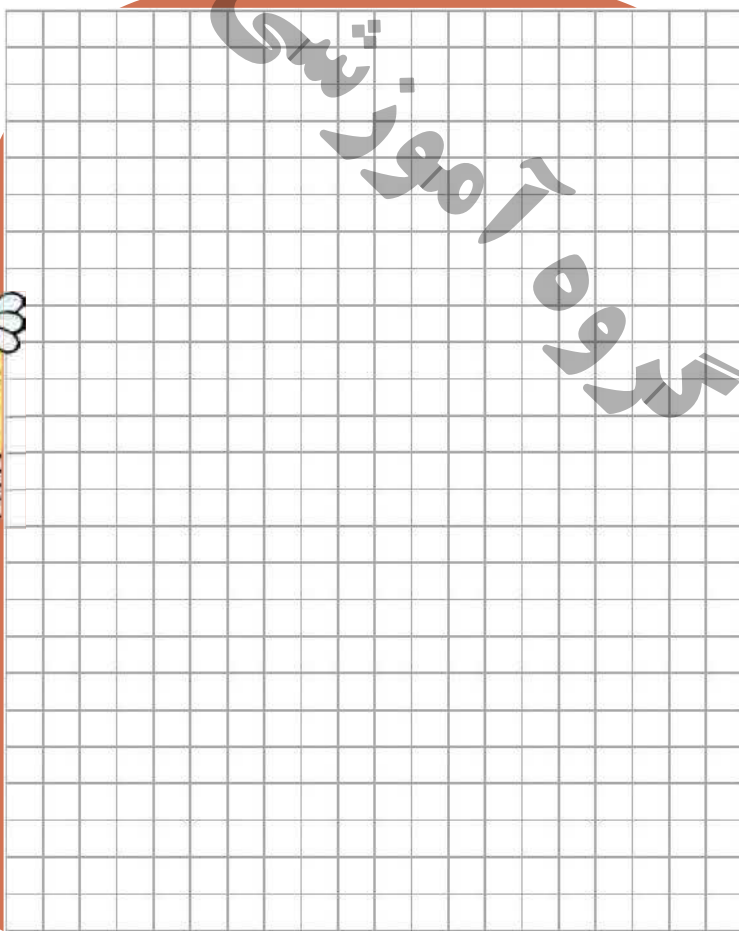

۱۹ اگر $\frac{1}{100}$ رشد جمعیت ایران از سال ۱۳۹۰ تا ۱۳۹۵ را حساب کنید، خواهید فهمید که این جانور، چند سال پیش زندگی می‌کرده است.

شاید تا به حال از خودتان پرسیده باشید که زمین‌شناسان از کجا می‌فهمند که یک فسیل یا یک شیء مربوط به چند سال پیش است؟ برای یافتن این راز مهم، بهتر است به آدرس اینترنتی <https://bitn.ir/n6jwe> (مربوط به دانشنامه رشد) سر بزنید.

لطفاً اگر این راز مهم را فهمیدید به سایر دوستانتان هم بگویید.




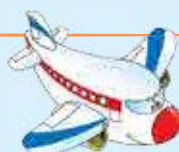


نقشه کشی قالی روی کاغذ شطرنجی، از دیر باز، هنر ایرانیان بوده و هست. شما هم به نمونه هایی از یک نقاشی ساده روی کاغذ شطرنجی نگاه کنید و یک نقاشی ساده همانند یک استاد نقشه کش قالی، بکشید. به یاد داشته باشید فقط باید از خط های روی کاغذ استفاده کنید و هیچ خط دیگری غیر از همین خط های کاغذ، نمی توانید بکشید.





۶ جدول زیر را کامل کنید.

معايب	فوايد	مسافرت با
		
		
		
		

۷ میزان جاده های آسفالته ی کشور در سال ۱۳۹۷ حدود دویست هزار کیلومتر و میزان راه آهن ایران در همین سال حدود چهارده هزار کیلومتر بوده است.

نسبت جاده های آسفالته کشور به راه های آهن کشور را به ساده ترین صورت بنویسید.

۸ حکومت در بسیاری از کشورها به روش جمهوری، اداره می شود؛ یعنی حکومت با رأی مردم، اداره می شود.

فرق جمهوری اسلامی با سایر جمهوری ها چیست؟

۹ آیا می دانید اولین بار چه کسی اصطلاح جمهوری اسلامی را به مردم دنیا معرفی کرد؟




۱۰ چهاردهمین دوره انتخابات ریاست جمهوری اسلامی ایران در سال ۱۴۰۴ برگزار می شود. هجدهمین

انتخابات ریاست جمهوری ایران در چه سالی برگزار خواهد شد؟

با چه روشی فهمیدید؟ روش خود را بنویسید.



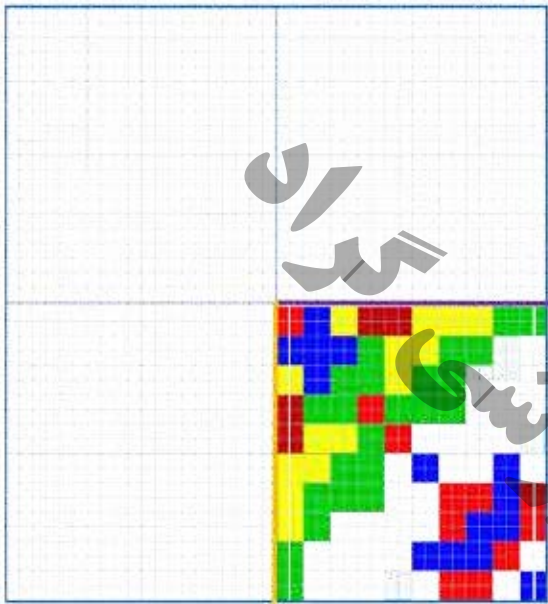
هنر من



(شکل الف)

(شکل ب)

در پیک قلی، کمی با روش کار یک استاد نقشه کش قالی، آشنا شدید. در این پیک می خواهیم کمی بیشتر یاد بگیریم. یک استاد نقشه کش قالی باید برخی موضوعات ریاضی به خوبی بلد باشد؛ مثل نسبت و تناسب، تقارن محوری، تقارن مرکزی و ... می خواهیم به کمک نسبت ها و همچنین تقارن، شکل ب را از روی شکل الف کامل کنیم.



برای این کار باید به این صورت عمل کنیم که:

-نسبت خانه های شکل الف به شکل ب، نسبت ۱ به ۴ است.

-یکی از محورهای تقارن بنفش یا نارنجی رنگ را انتخاب کنید و ربع دیگر شکل را بکشید. (همانطور که می بینید شکل ب، فقط یک ربع از شکل الف است که باید بقیه ی آن را به کمک محور تقارن، کامل کنیم.

-پس از انجام کارهایی که گفته شد، حالا شما نصف شکل ب را کامل کرده اید. دوباره با کمک محور تقارن، نیمه ی دیگر شکل را بکشید تا کامل شود.



چرا باید همه ی مردم ایران با زبان فارسی حرف بزنند و با همین زبان، بخوانند و بنویسند؟

۲۱

.....

.....

در فرهنگ بومی منطقه ی شما مردم به چه زبانی صحبت می کنند؟

۲۲

مهمترین نشانه ی فرهنگ بومی مردم منطقه ی شما چیست که تمام مردم ایران شما را با همین نشانه بشناسند؟

.....

.....

۲۶





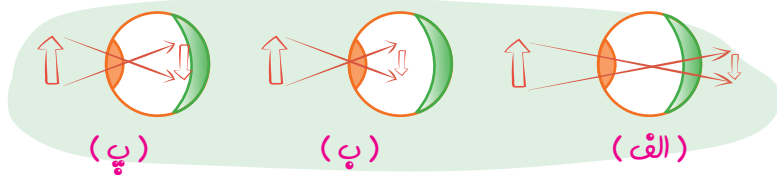
۷ تصور کنید یک شب بارانی است و مشغول تماشای تلویزیون هستید که ناگهان برق قطع می شود و همه جای کوچه و خیابان در تاریکی فرو می رود. در ابتدا و برای چند لحظه، چشمهای شما کور می شود و هیچ چیز را نمی بیند. چرا؟

در این گونه مواقع، توصیه می شود چند ثانیه، چشم ها بسته شود و دوباره باز شود تا چشم بتواند بعضی چیزها را در تاریکی ببیند. چرا؟

۸ آیا می دانید مژه های شما یک حسگر قوی است که با احساس خطر باعث می شود که پلک بسته شود؟ آیا به راستی، مژه ها پلک را پایین می کشند؟ چه اتفاقی می افتد که به محض احساس ورود چیزی به چشم توسط مژه ها، ناگهان پلک بسته می شود؟

۹ رضا احساس می کرد چیز تیزی در یقه اش، گردنش را اذیت می کند. مادر لباسش را گرفت و یقه ی آن را به لب هایش کشید. کمی بعد با ناخن هایش یک موی بسیار ریز از یقه ی پیراهن رضا بیرون کشید. رضا تعجب کرد؛ چرا مادر از همان ابتدا با دست مو را پیدا نکرد؟ چرا به لب هایش کشید؟

۱۰ به تصویر های روبرو توجه کنید.



(الف) کدام چشم، سالم است؟

(ب) مشکل چشم الف چیست؟

(پ) مشکل چشم ب چیست؟

(ت) تصویر در شبکیه ی چشم، وارونه و کوچکتر از اندازه واقعی خود جسم می افتد، پس چرا ما تصاویر را مستقیم و درست می بینیم؟

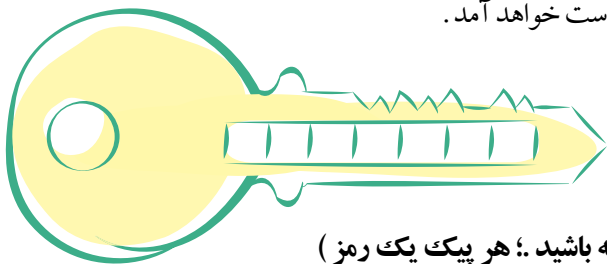


دست خود را روی کاغذ بگذارید و دور انگشتان دست خود را خط بکشید .
 اکنون مانند نقاشی بالا خط‌های کاغذ را امتداد دهید ولی هنگامی که به خطوط دست رسیدید آن‌ها را انحنا دهید تا برجستگی دست مشخص شود.
 از این تکنیک می‌توانید به راحتی برای برجسته کردن نقاشی‌های خود، استفاده کنید. مخصوصاً زمانی که رنگ می‌کنید این تکنیک، کمک زیادی می‌کند تا شما نقاشی برجسته داشته باشید. یادتان باشد با یک یادو نقاشی شما استاد نخواهید شد. زمانی شما از نقاشی خود لذت خواهید برد که تلاش و تمرین زیادی کنید و البته از یک استاد نقاشی هم بیاموزید .



یافتن رمز این پیک

- رمز پیک این هفته، کلمه‌ای است ۷ حرفی که برای یافتن حروف این کلمه و یافتن رمز، باید به نکات زیر دقت کنید:
- (۱) اندازه‌ی زاویه‌ی ۱ در تمرین ۱ چند درجه شد؟ (جواب این پرسش، کلمه‌ای پنج حرفی است.)
 حروف ششم و سوم رمز این پیک، حروف اول و آخر این جواب شما است.
 - (۲) طولانی‌ترین مدار زمین چه نام دارد؟ (جواب این پرسش کلمه‌ای پنج حرفی است.)
 حروف اول و چهارم رمز این پیک، حروف اول و آخر این جواب شما است.
 - (۳) از نظر امام حسن (ع) بهترین دوست ما کسی است که ما را از یاد نبرد. (جواب این پرسش، کلمه‌ای چهار حرفی است.)
 حرف آخر رمز این پیک، حرف آخر این جواب شما است.
 - (۴) پیامبری که قدرت خدا را در زنده کردن دوباره‌ی مردگان، با چشم خود دید که بود؟
 (جواب این پرسش، کلمه‌ای چهار حرفی است.)
 حرف پنجم رمز این پیک، حرف دوم این جواب شما است.
 - (۵) مهم‌ترین کارخواجه نظام الملک در ایران، تاسیس مدرسی به نام بود. (جواب این پرسش، کلمه‌ای شش حرفی است.)
 حرف دوم رمز این پیک، حرف اول این جواب شما است.
- حالاً اگر این حروف را به درستی کنار هم بگذارید رمز جلد به دست خواهد آمد.



(این کلید رمز را تا آخرین پیک به یاد داشته باشید؛ هر پیک یک رمز)



تأمینات


پایه پنجم، ورودی به پایه ششم

۵

فصل



قرآن

دور هر کدام از اعداد را یک دایره به اندازه ی  بکشید.

پاسخ هر کدام از موارد زیر را پیدا کنید و

حروفش را به ترتیب روی همان شماره بنویسید.

خانه های مربوط به هر پاسخ را

به همان رنگ خواسته شده، رنگ کنید

۲۵
۲۴
۲۳ ۱۵
۲۲ ۱۶
۲۱ ۱۷
۲۰ ۱۹ ۱۸ ۱۴ ۱۳ ۱۲ ۱۱ ۱۰ ۹ ۸

۳
۴
۵
۶
۷

الف) زینت آسمان هستند. (ص ۷۱ کتاب) (۱-۲-۳-۴-۵-۶-۷)

ب) مال و فرزندان، زینت دنیا هستند. (ص ۷۲ کتاب) (۸-۹-۱۰-۱۱-۱۲-۱۳-۱۴)

پ) دوست خداوند کیست؟ (ص ۷۲ کتاب) (۱۵-۱۶-۱۷-۱۸-۱۹)

ت) دل بی قرآن مانند دل است. (ص ۷۵ کتاب) (۲۰-۲۱-۲۲-۲۳-۲۴-۲۵)

یک تجربه



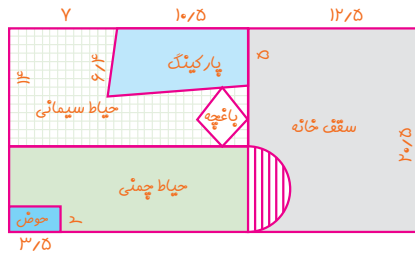
آقای محمد رضا جعفر پور دانش آموزی است که در سال ۱۳۹۹ در مسابقات قرآن، عترت و نماز مقام اول کشور را در رشته ی حفظ قرآن کسب نمود. او از نظر درسی و اخلاقی نیز یکی از بهترین دانش آموزان مدرسه است. بیشتر کسانی که حافظ قرآن هستند از وضع درسی و اخلاقی خوبی برخوردار هستند. یکی از فواید حفظ قرآن، تاثیر بسیار مهم آن بر توانایی یادگیری انسان است.

هر چقدر حفظ قرآن بیشتر شود توانایی مغز نیز بیشتر می شود. مغز تنها قسمت بدن است که هر چقدر بیشتر آن را استفاده کنیم، فعال تر می شود و در آینده نیز کمتر دچار ضعف می شود. پس یکی از راه های تقویت مغز و یادگیری، قرائت و حفظ روزانه ی قرآن است. در کتاب هدیه های آسمانی نیز خواندید که یکی از ویژگی های بارز امام خمینی، علاقه ی ایشان به خواندن روزانه ی قرآن بود.

۳۷



اطلاعات مورد نیاز شما
 ۲ = (حاصلضرب دو قطر) = مساحت لوزی
 ۲ = (ارتفاع × جمع قاعده ها) = ذوزنقه
 عرض × طول = مساحت مستطیل
 ۳ = (شعاع × شعاع) = مساحت دایره
 (ارتفاع × عرض × طول) = حجم مکعب
 ۱۰۰۰ (لیتر) = یک متر مکعب



به نقشه ی یک منزل مسکونی دقت کنید.

۸) مساحت باغچه را حساب کنید.

قطر بزرگ : ۲/۲

قطر کوچک : ۱/۸

۹) مساحت پارکینگ را نیز به دست آورید.

۱۰) صاحب این زمین در نظر دارد که گنجایش حوض حیاط، فقط حدود ۷۰۰۰ لیتر آب باشد. در این صورت، عمق این حوض تقریباً چقدر است؟

۱۱) اگر بخواهند حیاط سیمانی منزل را، با موزاییک های سیمانی مربع شکل به ابعاد ۵۰ سانتیمتر، فرش کنند تقریباً چند عدد موزاییک لازم است؟

می توانیم این مساله را به چند زیر مساله تبدیل کنیم تا راحت تر به جواب نهایی برسیم:

الف) مساحت حیاط سیمانی چند متر مربع است؟

ب) مساحت هر موزاییک چند متر مربع است؟

پ) هر متر مربع حیاط تقریباً با چند موزاییک فرش می شود؟

ت) تمام حیاط با چند موزاییک فرش می شود؟

۱۲) پشت بام خانه، باید عایق بندی شود. اگر هر متر عایق پشت بام حدود ۳۵۰۰۰ هزار تومان باشد

هزینه ی عایق پشت بام چند تومان می شود؟

شعاع نیم دایره : ۵ متر



۵ با کمک والدین و جستجو در اینترنت، تحقیق کنید و بنویسید که هر کدام از گل‌های خانگی زیر، چه شرایط مناسبی

را لازم دارند؟



نوع گل	میزان آب لازم	میزان نور لازم	نوع خاک مناسب	نوع هوای مناسب
گل شمعدانی				
گل قاشقی				
گل پیخ				
گل کاکتوس				

۶ تمام موجودات زنده (حتی موجودات درون آب) برای نفس کشیدن به اکسیژن نیاز دارند. گیاهان نیز اکسیژن را نفس می‌کشند و دی‌اکسید کربن را پس می‌دهند. اما بیشتر مردم بر این باورند که درختان، دی‌اکسید کربن را می‌گیرند و اکسیژن را پس می‌دهند. (و برای همین است که گیاهان پاک‌کننده‌ی هوا و تامین‌کننده‌ی اکسیژن هوا هستند.) نظر کتاب شما درست است؟ یا نظر مردم؟ در این باره تحقیق کنید و نتیجه را در ۲ خط اینجا بنویسید. (می‌توانید از کتاب علوم ششم هم کمک بگیرید.)

یک مهارت

عوض کردن خاک گلدان، موضوع مهمی است و چنانچه در این کار مهارت نداشته باشیم، ممکن است گل ما خشک شود. در این جا چند نکته‌ی مهم برای تعویض خاک گلدان ذکر شده است:

الف) برای تغییر خاک گلدان فصل بهار را انتخاب کنید. در این فصل گیاه قادر به ترمیم و بازسازی صدمات و آسیب‌های وارده بر پیکر می‌باشد. چون شیره نباتی در گیاه موجود است.

ب) یک روز قبل از تعویض گلدان آن را آب دهید چون تا دو روز پس از این جا به جایی، نباید گیاه را آب بدهید.

پ) بعد از تعویض خاک گلدان، آب زیر گلدانی را مرتباً دور بریزید.

ت) برای جلوگیری از مسدود شدن سوراخ انتهایی گلدان بر اثر حرکت خاک به دلیل جریان آب، بهتر است کف گلدان را با سنگ ریزه درشت تر یا مقداری پوشال شلتوک برنج پوشانید تا راه خروج آب باز بماند.



۱۷ این ضرب المثل را در سه خط توضیح دهید. ((هر چه کنی به خود کنی، گر همه نیک و بد کنی))

.....

.....

.....



۱۸ گاهی با جابجا کردن کلمه‌های یک شعر، می‌توان یک متن ساده نوشت؛ به مثال‌های زیر دقت کنید

و شما نیز نثر ساده بنویسید.

از زمین خشک می‌روید گیاه ←

چشمه جوشد آب می‌افتد به راه ←

برگ نو آرد درخت نارون، برگ نو در می‌آورد. ←

سبز گردد شاخساران کهن ←

گل بخندد بر سر گلبوته‌ها ←

پر کند بوی خوش گل، باغ را ←

۱۹ شعر پروین اعتصامی ((سلیمان و مور)) را از ابتدا تا انتها با حوصله و دقت بخوانید.

تصویرهای این شعر را مانند یک فیلم در ذهن خود تصور کنید. اکنون قصه ی سلیمان و مورچه را در ۵ خط و به صورت یک حکایت بنویسید. سعی کنید با کمترین و زیباترین جمله‌ها، تمام مفهوم این قصه را برای خواننده تعریف کنید.

.....

.....

.....

.....

.....

.....



۱۵) یک راننده‌ی موتور سیکلت که کلاه ایمنی ندارد، تصادف می‌کند و سر او از ناحیه‌ی پشت و بغل، آسیب می‌بیند. پزشکان او را مداوا می‌کنند ولی او بینایی خود را از دست می‌دهد. چرا با اینکه هیچ آسیبی به چشم او نرسیده است ولی او نابینا شده؟ (برای پاسخ خود از خانواده کمک بگیرید.).....



۱۶) مراحل تشکیل فسیل یک نهنگ را توضیح دهید.

۱۷) اسکلت بدن ما چه فایده‌هایی برای ما دارد؟

۱۸) مراحل شنیدن صدا و تشخیص آن را توسط مغز، بنویسید



۱۹) وسیله‌های زیر از چه نوع ماشین‌هایی ساخته شده است؟



تیر:

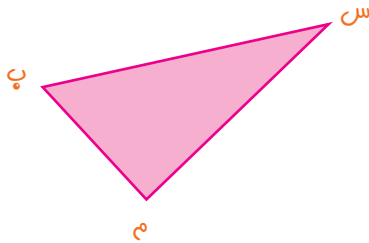
دستگیره‌ی در اتاق:

قسمت‌های اهرم بکار رفته در هر وسیله را روی تصویر مشخص نمایید.

۲۹) با توجه به اطلاعات زیر، اندازه‌های هر کدام از زاویه‌های این مثلث را به دست آورید.

الف) مجموع زاویه‌های (ب) و (س) روی هم ۹۰ درجه است.

ب) نسبت زاویه‌ی (س) به (ب) مانند ۲ به ۳ است.



این مثلث، چه نوع مثلثی است؟

۳۰) اطلاعات زیر را از یک چهار ضلعی داریم:

— زاویه‌ی (ب) و زاویه‌ی (م) باهم برابرند.

— نسبت زاویه‌ی (س) به زاویه‌ی (ل) مانند ۴ به ۲ است.

— مجموع زاویه‌های (س) و (ل) روی هم ۱۸۰ درجه است.

الف) این چهار ضلعی را بکشید.

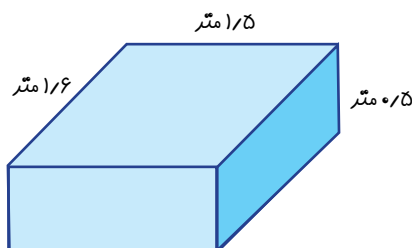
ب) نام این چهار ضلعی چیست؟

۳۱) یک منبع آب به شکل مکعب روی پشت بام است که طبق الگوی زیر، پُر از آب می‌شود. اگر شیر

آب را ساعت ۴۵:۲۰ باز کنیم تا این منبع پُر از آب شود، چه ساعتی باید شیر آب را ببندیم؟

۵ دقیقه‌ی سوم	۵ دقیقه‌ی دوم	۵ دقیقه‌ی اول
۶۰ لیتر	۴۰ لیتر	۲۰ لیتر

(پدای حل این مساله از تکنیک زیر مساله، استفاده کنید.)



تعمیرات

درد

۸

فصل

پایه پنجم، ورودی به پایه ششم



فارسی

دانش آموزان عزیز: این فعالیت را حتما با کمک والدین (اعضای خانواده) انجام دهید.



آهن و زر

روزگاری مردی در دکان خویش آهن، به کوره و پُتک، حالات چنان می داد و تا شب می فروخت. زین راه، قوت حلالش حاصل بود و نبود از سُکر غافل، به جهت زیادت نعمت.

از قضا همسایه ی چند منزلی دکان او را، فرزندی فربه بود که از فرط بیکاری، بر سایه ی خنک و بهاری بید، در گذر آهنگری، لم می داد و تخم کدو می جوید و پوستش را در پای رَم می داد.

روزی جوان کاهل آهنگر را گفت: ((زین گداخت و پرداخت آهن سخت، تورا هم چیزی آید به دست ؟)) آهنگر چو لب خند ملنگ و چشم تنگ جوان بدید، زبان به دندان گزید و زین سخن نکوهیده، خاموشی گزید. جوان را قهقه ای برخواست و در سُرف خفه گی، آب خواست. چون حالش به جای شد، آهنگر را گفت: ((سکوت از گردن کلفت است یا از سخن مُفت نداشته ات در سر آستین دست زُمخت ؟))

۶۱

